

فصل اول: کیهان زادگاه الفبای هستی

زیرفصل اول

شناخت کیهان


- ۱ شواهد تاریخی نشان می‌دهد که انسان اولیه با نگاه به آسمان و مشاهده ستارگان در پی فهم نظام و قانونمندی در آسمان و همواره به دنبال پاسخ‌هایی برای پرسش‌های بنیادی خود بوده است.
- ۱- هستی چگونه پدید آمده است؟ ← پاسخ این پرسش در قلمروی علم تجربی نمی‌گنجد.
۲- جهان کنونی چگونه شکل گرفته است؟ ← پاسخ این پرسش‌ها در قلمروی برخی پرسش‌های بنیادی
۳- پدیده‌های طبیعی چرا و چگونه رخ می‌دهند؟ ← علم تجربی است.
- ۲ زمین در برابر عظمت آفرینش همانند آزمایشگاه بسیار کوچکی است که دانشمندان با آزمایش‌های گوناگون در آن، در تلاش برای یافتن پاسخ پرسش‌های خود هستند.
- نکته** شیمی‌دان‌ها با مطالعه خواص و رفتار ماده، همچنین برهم‌کنش نور با ماده، به اطلاعات مهمی در مورد جهان هستی دست یافته‌اند.

ووایجر ۱ و ۲

- ۱ دانشمندان برای شناخت بیشتر سامانه خورشیدی، دو فضایی ووایجر ۱ و ۲ را در حدود ۴۰ سال پیش، یعنی در سال ۱۹۷۷ میلادی (۱۳۵۶ خورشیدی)، به فضا پرتاب کردند.
- ۲ مأموریت دو فضایی ووایجر ۱ و ۲، تهیه و ارسال شناسنامه فیزیکی و شیمیایی سیاره‌های مشتری، زحل، اورانوس و نپتون بوده است.
- نکته** چهار سیاره مشتری، زحل، اورانوس و نپتون جزء سیاره‌های گازی (بیرونی) سامانه خورشیدی هستند.
- ۱- نوع عنصرهای سازنده سیاره
۲- ترکیب‌های شیمیایی موجود در اتمسفر سیاره
۳- ترکیب درصد مواد موجود در اتمسفر سیاره
- ۳ آخرین تصویری که ووایجر ۱، پیش از خروج از سامانه خورشیدی از زمین گرفت از فاصله ۷ میلیارد کیلومتری بوده است.

زمین و مشتری

- ۱ عنصرها در جهان هستی به صورت ناهمگون توزیع شده‌اند؛ از این‌رو با بررسی نوع و مقدار عنصرهای سازنده برخی از سیاره‌های سامانه خورشیدی و مقایسه آن با عنصرهای سازنده خورشید و دیگر سیاره‌ها، می‌توان به درک بهتری از چگونگی تشکیل عنصرها دست یافت.
- ۲ نکات مربوط به دو سیاره زمین و مشتری در زیر ارائه شده است:

شکل	نکات
	<p>۱- سیاره مشتری نسبت به سیاره زمین در فاصله دورتری از خورشید قرار گرفته است.</p> <p>۲- هرچه فاصله یک سیاره از خورشید بیشتر باشد، دمای سطحی آن پایین‌تر است.</p> <p>مشتری > زمین: دمای سطحی</p> <p>۳- سیاره مشتری بزرگ‌ترین سیاره سامانه خورشیدی است؛ در حالی که سیاره زمین رتبه پنجم را از نظر اندازه در میان سیاره‌های سامانه خورشیدی دارد.</p>

شکل	نکات
<p style="text-align: center;">مشتری</p>	<p>۱- ترتیب فراوانی ۸ عنصر فراوان موجود در سیاره مشتری به صورت مقابل است: $H > He > C > O > N > S > Ar > Ne$</p> <p>۲- در میان هشت عنصر فراوان سیاره مشتری عنصر فلزی یافت نمی‌شود، از این رو مشتری جزء سیاره‌های گازی به شمار می‌آید.</p> <p>۳- در سیاره‌های گازی، تراکم گازها بسیار زیاد است که این امر منجر به شکل‌گیری این سیاره‌ها شده است.</p> <p>۴- فراوان‌ترین عنصر در سیاره مشتری هیدروژن (با حدود ۹۰ درصد فراوانی) است.</p>
<p style="text-align: center;">زمین</p>	<p>۱- ترتیب فراوانی ۸ عنصر فراوان موجود در سیاره زمین به صورت مقابل است: $Fe > O > Si > Mg > Ni > S > Ca > Al$</p> <p>۲- در میان هشت عنصر فراوان سیاره زمین، ۵ عنصر فلزی (Ni, Mg, Fe, Al, Ca)، یک عنصر شبه فلزی (Si) و ۲ عنصر نافلزی (S, O) وجود دارد.</p> <p>۳- فراوان‌ترین عنصر در سیاره زمین آهن (با حدود ۴۰ درصد فراوانی) است.</p> <p>۴- اختلاف درصد فراوانی دو عنصر فراوان‌تر در سیاره مشتری، بیشتر از این اختلاف در سیاره زمین است.</p>

اشتباه نکنید اکسیژن (O) فراوان‌ترین عنصر در پوسته زمین است؛ این در حالی است که فراوان‌ترین عنصر در کل

کره زمین آهن (Fe) می‌باشد.

۳ مقایسه دو عنصر اکسیژن و گوگرد در دو سیاره زمین و مشتری به صورت زیر است:

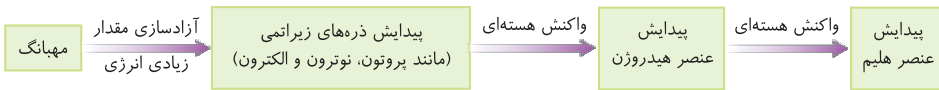
دو عنصر اکسیژن (O) و گوگرد (S) جزء عناصر فراوان موجود در هر دو سیاره زمین و مشتری هستند. اکسیژن و گوگرد عنصر اکسیژن در سیاره مشتری از نظر فراوانی در رتبه (۴) و در سیاره زمین در رتبه (۲) قرار دارد. عنصر گوگرد در هر دو سیاره از نظر فراوانی در رتبه (۶) قرار دارد. درصد فراوانی اکسیژن و گوگرد در سیاره زمین بیشتر از سیاره مشتری است.

۴ سیاره مشتری بیشتر از جنس گاز و سیاره زمین بیشتر از جنس سنگ است. از این رو چگالی سیاره زمین از سیاره مشتری بیشتر می‌باشد.

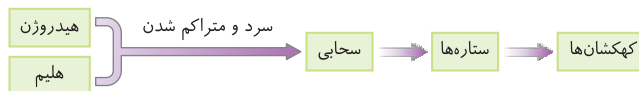
نحوه پیدایش عناصرها

۱ دانشمندان با مقایسه نوع و میزان فراوانی عناصرها در سیارات مختلف و شواهد دیگر، توانستند چگونگی پیدایش عناصرها را توضیح دهند. برخی دانشمندان بر این باورند که سرآغاز کیهان با انفجاری مهیب (مهانگ) همراه بوده که طی آن انرژی عظیمی آزاد شده است.

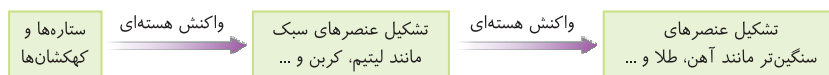
۲ پس از پدید آمدن ذره‌های زیراتمی (مانند الکترون، پروتون و نوترون)، عناصرهای هیدروژن و هلیم پا به عرصه جهان گذاشتند.



۳ با گذشت زمان و کاهش دما، گازهای هیدروژن و هلیوم تولید شده، متراکم شد و مجموعه‌های گازی به نام **سحابی** ایجاد کرد. بعدها این سحابی‌ها سبب پیدایش ستاره‌ها و کهکشان‌ها شد.



۴ درون ستاره‌ها همانند خورشید در دماهای بسیار بالا و ویژه، واکنش‌های هسته‌ای رخ می‌دهد و طی این واکنش‌ها عنصرهای سبک مانند لیتیم، کربن و ... ایجاد می‌شود. همچنین عنصرهای سنگین‌تر مانند آهن، طلا و ... نیز از واکنش هسته‌ای میان عنصرهای سبک، به وجود می‌آیند.

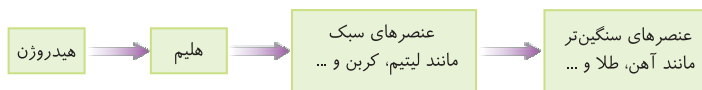


۵ **نقطه** نوع عنصرهای ساخته شده در هر ستاره به دما و اندازه آن ستاره بستگی دارد.

شرایط تشکیل عنصرهای سنگین‌تر مناسب‌تر \Rightarrow هر چه دمای ستاره بالاتر

۶ **ستارگان** پس از چندین میلیون سال نورافشانی و گرمابخشی، پایداری خود را از دست داده، در انفجاری مهیب متلاشی شده و اتم‌های ساخته در آن‌ها در سراسر گیتی پراکنده می‌شود.

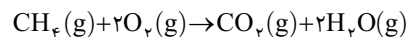
۷ روند کلی تشکیل عنصرها به صورت زیر می باشد:



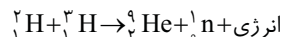
واکنش هسته‌ای و رابطه اینشتین

۱ به طور کلی در شیمی دبیرستان، دو نوع واکنش را بررسی می‌کنیم:

الف) **واکنش شیمیایی**: در واکنش‌های شیمیایی نه اتمی به وجود می‌آید و نه از بین می‌رود بلکه پس از انجام واکنش، همان اتم‌ها به شیوه دیگری به یکدیگر متصل می‌شوند.



ب) **واکنش هسته‌ای**: در واکنش هسته‌ای، اتم‌های واکنش دهنده به اتم‌های دیگری تبدیل می‌شوند.



۲ درون ستاره‌ها به دلیل انجام واکنش‌های هسته‌ای، انرژی بسیار زیادی آزاد می‌شود. اینشتین رابطه زیر را برای محاسبه این انرژی ارائه کرد:

$$E = mc^2$$

m: جرمی از ماده که به انرژی تبدیل شده است (kg)

$$c: \text{سرعت نور } (3 \times 10^8 \frac{\text{m}}{\text{s}}), \quad E: \text{انرژی آزاد شده (J)}$$

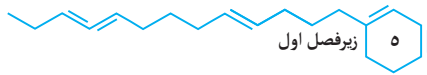
۳ **نقطه** طبق رابطه اینشتین می‌توان گفت: $1 \text{ J} = 1 \text{ kg} \cdot (\text{ms}^{-1})^2 = 1 \text{ kg} \cdot \text{m}^2 \cdot \text{s}^{-2}$

تست

۱. با توجه به رابطه اینشتین، از تبدیل یک گرم ماده به انرژی، چند ژول انرژی آزاد می‌شود؟

- (۱) 9×10^7 (۲) 9×10^{10} (۳) 9×10^{13} (۴) 9×10^{16}

پاسخ: (گزینه ۳) $E = mc^2 = 10^{-3} \times (3 \times 10^8)^2 = 9 \times 10^{13} \text{ J}$



۲. اگر برای ذوب شدن یک گرم آهن، ۲۴۳ ژول انرژی لازم باشد، انرژی آزاد شده از واکنش هسته‌ای که در آن ۱/۰ گرم ماده به انرژی تبدیل می‌شود، چند گرم آهن را ذوب خواهد کرد؟

(۱) $3/7 \times 10^0$ (۲) 9×10^{12} (۳) $3/7 \times 10^{13}$ (۴) 9×10^{15}

پاسخ: ابتدا مقدار انرژی حاصل از تبدیل ماده به انرژی را محاسبه می‌کنیم:

$$E = mc^2 = 0/1 \times 10^{-3} \times (3 \times 10^8)^2 = 9 \times 10^{12} \text{ J}$$

سپس جرمی از آهن را که با این مقدار از انرژی ذوب می‌شود، محاسبه می‌کنیم:

$$? \text{ g Fe} = 9 \times 10^{12} \text{ J} \times \frac{1 \text{ g Fe}}{243 \text{ J}} = 3/7 \times 10^0 \text{ g Fe} \text{ (گزینه ۱)}$$

نکته در مسائلی که جرم واکنش‌دهنده و فراورده داده شده، برای محاسبه مقدار ماده‌ای که به انرژی تبدیل می‌شود، جرم فراورده‌ها را از واکنش‌دهنده‌ها کم می‌کنیم.

$$m = \text{جرم فراورده‌ها} - \text{جرم واکنش‌دهنده‌ها}$$

تست

۳. اگر گرمای حاصل از سوختن یک گرم گاز متان برابر ۵۷/۲۴ کیلوژول باشد، گرمای حاصل از واکنش هسته‌ای یک گرم از هسته‌های ایزوتوپ هیدروژن (${}^2_1\text{H}$) و تولید $0/99364$ گرم هسته هلیوم، معادل سوختن چند گرم

گاز متان است؟

(۱) $1/0 \times 10^7$ (۲) $5/7 \times 10^{11}$ (۳) $1/0 \times 10^1$ (۴) $5/7 \times 10^8$

پاسخ: ابتدا جرمی از ماده که به انرژی تبدیل شده را محاسبه می‌کنیم:

$$m = 6/36 \times 10^{-6} \text{ kg} = 6/36 \times 10^{-3} \text{ g} = 1 - 0/99364 = \text{جرم فراورده‌ها} - \text{جرم واکنش‌دهنده‌ها}$$

سپس به کمک رابطه اینشتین انرژی حاصل را به دست می‌آوریم:

$$E = mc^2 = 6/36 \times 10^{-6} \times (3 \times 10^8)^2 = 5/724 \times 10^{11} \text{ J} = 5/724 \times 10^8 \text{ kJ}$$

اکنون محاسبه می‌کنیم این مقدار انرژی معادل سوختن چند گرم گاز متان است:

$$? \text{ g متان} = 5/724 \times 10^8 \text{ kJ} \times \frac{1 \text{ g متان}}{57/24 \text{ kJ}} = 1 \times 10^7 \text{ g متان} \text{ (گزینه ۱)}$$

ذره‌های زیراتمی، عدد اتمی و عدد جرمی

۱ به ذره‌هایی که در ساختار یک اتم وجود دارند، ذره‌های زیراتمی می‌گویند. الکترون، پروتون و نوترون ذره‌های زیراتمی هستند.

عدد اتمی (Z): تعداد پروتون‌های هسته هر اتم را عدد اتمی می‌گویند. برای نمونه، عدد اتمی عنصری که در هسته خود ۱۲ پروتون دارد، برابر ۱۲ می‌باشد. ($Z=12$)

۲ عدد اتمی همه اتم‌های یک عنصر یکسان است و به کمک عدد اتمی می‌توان به نوع عنصر پی‌برد. برای نمونه عنصری با عدد اتمی ۸، اکسیژن نام دارد.

۳ اتم‌ها ذره‌هایی خنثی هستند؛ از این رو شمار الکترون‌ها با شمار پروتون‌های هسته اتم (عدد اتمی) برابر است.

۴ در هسته یک اتم، تعداد نوترون‌ها برابر یا بیش‌تر از تعداد پروتون‌ها (عدد اتمی) است.

۵ در هسته اتم هیدروژن (${}^1_1\text{H}$)، تنها یک پروتون وجود دارد و خبری از نوترون نیست.

۱- تعیین تعداد پروتون‌ها و الکترون‌های موجود در اتم یک عنصر

۲- تعیین نوع عنصر

۳- تعیین موقعیت عنصر در جدول دوره‌ای

اشتباه نکنید دو یا چند گونه که تعداد الکترون‌های برابری دارند، لزوماً متعلق به یک عنصر نیستند. برای نمونه گونه‌های



عدد جرمی (A): به مجموع تعداد پروتون‌ها و نوترون‌های هستهٔ یک اتم، عدد جرمی (A) می‌گویند.

$$\text{تعداد نوترون} + \text{تعداد پروتون} = \text{عدد جرمی (A)}$$

توجه: میان عدد اتمی (Z) و عدد جرمی (A) رابطهٔ زیر برقرار است: (N برابر شمار نوترون‌ها است.)

$$A = Z + N$$

- ۱- مجموع تعداد پروتون‌ها و نوترون‌های هستهٔ اتم
- ۲- مجموع تعداد الکترون‌ها و نوترون‌های اتم
- ۳- تعیین تعداد نوترون‌ها (به کمک عدد اتمی)
- ۴- پیش‌بینی پرتوزا بودن یا نبودن هستهٔ اتم (به کمک عدد اتمی)
- ۵- تعیین تقریبی جرم نسبی اتم

نماد شیمیایی عناصرها

۱ شیمی‌دان‌ها هر عنصر را با نماد ویژه‌ای نشان می‌دهند. در این نمادها عددهای سمت چپ از بالا به پایین به ترتیب عدد جرمی (A) و عدد اتمی (Z) می‌باشند.

$$\begin{matrix} A \leftarrow \text{عدد جرمی} \\ E \Rightarrow \text{نماد شیمیایی} \\ Z \leftarrow \text{عدد اتمی} \end{matrix}$$

۲ در جدول دوره‌ای عناصرها، هر عنصر با نماد یک یا دو حرفی نمایش داده می‌شود. در هر نماد، حرف اول نام لاتین به صورت بزرگ نوشته می‌شود.

نماد شیمیایی عناصرها - اگر تک حرفی باشد \leftarrow حرف بزرگ \leftarrow مثال: H, O, K ...
اگر دو حرفی باشد \leftarrow حرف اول بزرگ، حرف دوم کوچک \leftarrow مثال: Al, Li, ...

تست

۴. در مورد اتمی با نماد شیمیایی ${}^A_Z X$ ، کدام عبارت درست است؟

۱) Z همان عدد اتمی است که نشان‌دهندهٔ مجموع شمار پروتون‌ها و نوترون‌های اتم است.

۲) A عدد اتمی نام دارد و برابر با مجموع شمار ذره‌های زیراتمی است.

۳) تفاوت تعداد نوترون‌ها و پروتون‌های هستهٔ اتم برابر $A - 2Z$ می‌باشد.

۴) عدد جرمی همهٔ اتم‌های یک عنصر یکسان است.

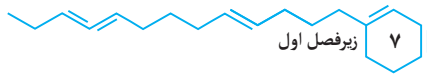
پاسخ: تعداد پروتون‌های هستهٔ اتم را عدد اتمی (Z) و مجموع تعداد پروتون‌ها و نوترون‌های هستهٔ اتم را عدد جرمی (A) می‌گویند.

$$\begin{matrix} A \\ Z \end{matrix} X \begin{cases} \text{شمار نوترون‌ها} = A - Z \\ \text{شمار پروتون‌ها} = Z \end{cases} \Rightarrow \text{تفاوت شمار نوترون‌ها و پروتون‌ها} = (A - Z) - Z = A - 2Z$$

توجه داشته باشید که شمار پروتون‌های هستهٔ (عدد اتمی) همهٔ اتم‌های یک عنصر یکسان می‌باشد. (گزینهٔ ۳)

۳ برای به دست آوردن تعداد ذره‌های زیراتمی در گونه‌های چند اتمی، تعداد ذره‌های زیراتمی هر یک از اتم‌ها را با هم جمع می‌کنیم. برای نمونه تعداد ذره‌های زیراتمی در H_2O که دارای یک اتم ${}^{16}_8 O$ (۸ پروتون، ۸ الکترون

و ۸ نوترون) و ۲ اتم ${}^1_1 H$ (۱ پروتون، ۱ الکترون و صفر نوترون) \Rightarrow $2(1) + 8 = 10$ = تعداد پروتون‌ها
است، برابر است با: $2(1) + 8 = 10$ = تعداد الکترون‌ها
 $2(0) + 8 = 8$ = تعداد نوترون‌ها



توجه در یون‌های چند اتمی، محاسبه تعداد پروتون‌ها و نوترون‌ها همانند گونه‌های چند اتمی خنثی است ولی برای محاسبه تعداد الکترون‌ها باید از رابطه زیر استفاده کرد:

$$\text{بار یون} - \text{مجموع پروتون‌های اتم‌ها} = \text{تعداد الکترون‌ها در یون‌های چند اتمی}$$

تست

۵. تعداد الکترون‌ها در یون PH_4^+ کدام است؟ (^1_1H , $^{31}_{15}\text{P}$)

۱۸ (۱) ۱۹ (۲) ۲۰ (۳) ۲۱ (۴)

پاسخ: PH_4^+ دارای یک اتم $^{31}_{15}\text{P}$ (۱۵ پروتون، ۱۵ الکترون و ۱۶ نوترون) و ۴ اتم ^1_1H (۱ پروتون، ۱ الکترون و

صفر نوترون) است. PH_4^+ در $15 + 4(1) = 19$ = تعداد پروتون‌ها در PH_4^+

(گزینه ۱) $18 = 19 - (+1) = 18$ = بار یون - مجموع تعداد پروتون‌ها = تعداد الکترون‌ها در PH_4^+

بررسی تیپ‌بندی مسائل یکی از انواع سؤالاتی که از این بخش مطرح می‌شود، مسائل مربوط به تعیین عدد اتمی، تعداد ذره‌های زیراتمی و ... است. در این گونه مسائل با توجه به این نکته که در هسته یک اتم، تعداد نوترون‌ها برابر یا بیشتر از تعداد پروتون‌ها است ($N \geq Z$)، می‌توان این مسائل را به سادگی حل نمود.

تست

۶. عدد جرمی عنصر X برابر ۹۲ و تعداد نوترون‌ها ۱/۳ برابر تعداد پروتون‌ها است. تعداد پروتون‌های این عنصر کدام است؟

۳۶ (۱) ۴۰ (۲) ۵۲ (۳) ۶۳ (۴)

پاسخ:
$$X \begin{cases} Z + N = 92 \\ \frac{N}{Z} = 1/3 \end{cases} \Rightarrow Z + (1/3Z) = 92 \Rightarrow 2/3Z = 92 \Rightarrow Z = 40$$
 (گزینه ۲)

۷. اگر در اتم ^{79}A اختلاف شمار نوترون‌ها و پروتون‌ها برابر ۱۱ باشد، این اتم دارای چند الکترون است؟

۴۵ (۱) ۳۹ (۲) ۳۴ (۳) ۲۸ (۴)

پاسخ: ابتدا تعداد پروتون‌ها را محاسبه می‌کنیم:

$$A \begin{cases} Z + N = 79 \\ N - Z = 11 \end{cases} \Rightarrow Z + (11 + Z) = 79 \Rightarrow 2Z + 11 = 79 \Rightarrow 2Z = 68 \Rightarrow Z = 34$$

در اتم‌ها تعداد الکترون‌ها با عدد اتمی (Z) برابر است. (گزینه ۳)

راه حل ساده‌تر: $Z = \frac{A - (N - Z)}{2} = \frac{79 - 11}{2} = 34$

توجه اتم‌ها در شرایط مناسب با گرفتن و یا از دست دادن الکترون به یون تبدیل می‌شوند. در یون‌ها برای محاسبه تعداد الکترون‌ها می‌توان از رابطه زیر استفاده نمود:

$$\text{بار یون} - \text{تعداد پروتون‌ها} (Z) = \text{تعداد الکترون‌ها}$$

تست

۸. در یون X^{2+} ، عدد جرمی برابر ۲۰۷ و اختلاف شمار نوترون‌ها و الکترون‌ها برابر ۴۵ است. عدد اتمی عنصر X کدام است؟

- ۷۶ (۱) ۷۸ (۲) ۸۰ (۳) ۸۲ (۴)

پاسخ: $X^{2+} \begin{cases} Z+N=207 \\ N-e=45 \end{cases} \xrightarrow{e=Z-2} \begin{cases} Z+N=207 \\ N-Z=43 \end{cases} \Rightarrow Z+(43+Z)=207$

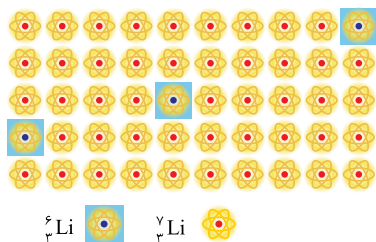
$\Rightarrow 2Z+43=207 \Rightarrow Z=82$ (گزینه ۴)

راه حل ساده‌تر: $Z = \frac{A - (N - e + 2)}{2} = \frac{207 - 45 + 2}{2} = 82$ (گزینه ۴)

ایزوتوپ (هم مکان)

- اغلب در یک نمونه طبیعی از یک عنصر، اتم‌های سازنده جرم یکسانی ندارند. به اتم‌های یک عنصر که دارای عدد اتمی یکسان ولی عدد جرمی متفاوت هستند، ایزوتوپ گفته می‌شود.
- درصد فراوانی هر ایزوتوپ در طبیعت نشان‌دهنده پایداری آن ایزوتوپ است. به طوری که هر چه ایزوتوپ پایدارتر باشد، درصد فراوانی آن در نمونه طبیعی بیشتر است.
- درصد فراوانی هر یک از ایزوتوپ‌ها را می‌توان به صورت زیر محاسبه کرد:

$$\text{درصد فراوانی ایزوتوپ A} = \frac{\text{تعداد ایزوتوپ‌های A}}{\text{تعداد کل ایزوتوپ‌ها}} \times 100$$



۳. لیتیم در طبیعت دارای دو ایزوتوپ ${}^6\text{Li}$ و ${}^7\text{Li}$ است که شمار تقریبی ایزوتوپ‌های لیتیم به صورت مقابل می‌باشد:

درصد فراوانی ${}^6\text{Li}$ $= \frac{3}{50} \times 100 = 6\%$

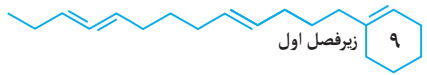
درصد فراوانی ${}^7\text{Li}$ $= \frac{47}{50} \times 100 = 94\%$

۴. در نمونه‌های طبیعی از عنصر لیتیم، درصد فراوانی ${}^7\text{Li}$ بیشتر از ${}^6\text{Li}$ می‌باشد؛ پس ایزوتوپ ${}^7\text{Li}$ پایدارتر از ایزوتوپ ${}^6\text{Li}$ است.

۵. در جدول زیر، به توضیح ایزوتوپ‌های منیزیم می‌پردازیم:

شکل	نکات
	<p>۱- شکل روبه‌رو، نمایشی از ایزوتوپ‌های منیزیم در یک نمونه طبیعی از آن است.</p> <p>۲- در یک نمونه طبیعی از عنصر منیزیم، سه ایزوتوپ وجود دارد.</p> <p>۳- مقایسه درصد فراوانی و پایداری ایزوتوپ‌ها در نمونه طبیعی منیزیم به صورت زیر می‌باشد.</p> <p>${}^{25}\text{Mg} (\%10/13) > {}^{26}\text{Mg} (\%11/17) > {}^{24}\text{Mg} (\%78/70)$: مقایسه درصد فراوانی</p> <p>${}^{24}\text{Mg} > {}^{26}\text{Mg} > {}^{25}\text{Mg}$: مقایسه پایداری</p>

۶. خواص شیمیایی اتم‌های هر عنصر به عدد اتمی (Z) آن وابسته است؛ از این رو ایزوتوپ‌ها همگی خواص شیمیایی یکسانی دارند و در جدول دوره‌ای عناصر تنها یک مکان (یک خانه) را اشغال می‌کنند. به همین دلیل به آن‌ها هم‌مکان می‌گویند.



- ۷ ایزوتوپ‌های یک عنصر در برخی خواص فیزیکی وابسته به جرم مانند چگالی، دمای ذوب و جوش با یکدیگر تفاوت دارند.
- ۸ اغلب (نه همه!) هسته‌هایی که نسبت شمار نوترون‌ها به پروتون‌های آن‌ها برابر یا بیشتر از ۱/۵ باشد، ناپایدارند و با گذشت زمان متلاشی می‌شوند.

$$\frac{N}{P} \geq 1/5 \Rightarrow \text{هسته به احتمال زیاد پرتوزا و ناپایدار است}$$

اشتباه نکنید در هسته همه اتم‌های پرتوزا نسبت شمار نوترون‌ها به پروتون‌ها برابر یا بزرگ‌تر از ۱/۵ نیست. برای

نمونه ${}^{12}_6\text{C}$ ، ${}^{56}_{26}\text{Fe}$ و ${}^{99}_{43}\text{Tc}$ همگی ایزوتوپ‌های پرتوزا و ناپایداری هستند که $\frac{N}{P}$ آن‌ها کمتر از ۱/۵ است.

همچنین، ایزوتوپ‌هایی هستند که $\frac{N}{P}$ آن‌ها برابر یا بزرگ‌تر از ۱/۵ است ولی پایدارند. برای نمونه ${}^{195}_{78}\text{Pt}$ دارای

$$\frac{N}{P} \text{ برابر با } 1/5 \text{ است ولی این ایزوتوپ پایدار می‌باشد.}$$

۹ نیم‌عمر هر ایزوتوپ نشان می‌دهد که آن ایزوتوپ تا چه اندازه پایدار است. نیم‌عمر، مدت زمانی است که طول می‌کشد تا نیمی از هسته‌های پرتوزا متلاشی شوند.

توجه هرچه نیم‌عمر یک ایزوتوپ کوتاه‌تر باشد، زمان ماندگاری آن کمتر بوده و در نتیجه ناپایدارتر است.

۱۰ شباهت‌ها و تفاوت‌های ایزوتوپ‌های یک عنصر:

تفاوت ایزوتوپ‌ها	شباهت ایزوتوپ‌ها
۱- عدد جرمی (A)	۱- عدد اتمی (Z)
۲- تعداد نوترون‌ها	۲- تعداد پروتون‌ها
۳- جرم نسبی	۳- تعداد الکترون‌ها
۴- نیم‌عمر (برای ایزوتوپ‌های پرتوزا)	۴- آرایش الکترونی
۵- پایداری نسبی	۵- خواص شیمیایی
۶- برخی خواص فیزیکی وابسته به جرم	۶- موقعیت در جدول دوره‌ای
۷- خواص فیزیکی ترکیب‌های حاصل از آن‌ها	
۸- درصد فراوانی	

بررسی تیپ‌بندی مسائل در مسائل مربوط به نیم‌عمر، به‌طور مثال به شما نیم‌عمر یک ایزوتوپ پرتوزا داده و از شما خواسته می‌شود که محاسبه کنید طی یک مدت زمان معین، چه مقدار از هسته‌های ایزوتوپ پرتوزا متلاشی می‌شود و یا چه مقدار از آن باقی می‌ماند و از این دست سؤالات که مورد بررسی قرار می‌گیرد. به منظور حل مسائل نیم‌عمر می‌توان از روابط زیر استفاده کرد:

$$\Delta t: \text{ زمان کل فرایند} \quad n = m_0 \left(\frac{1}{2}\right)^n \quad m = m_0 \left(\frac{1}{2}\right)^n \quad \text{تعداد نیم‌عمرها (n)} = \frac{\Delta t}{T}$$

T : زمان نیم‌عمر رادیوایزوتوپ n : تعداد نیم‌عمرها

m_0 : مقدار اولیه ماده پرتوزا m : مقدار ماده پرتوزای باقی‌مانده

تست

۹. جرم یک ماده پرتوزا در هر ۲۰ دقیقه نصف می‌شود. چنانچه جرم اولیه این ماده ۱۰ گرم باشد، پس از یک ساعت چند گرم از این ماده پرتوزا باقی خواهد ماند؟

۱) ۰/۶۲۵ (۲) ۱/۲۵ (۳) ۲/۵ (۴) ۳

$$n = \frac{\Delta t}{T} = \frac{۶۰ \text{ دقیقه}}{۲۰ \text{ دقیقه}} = ۳$$

پاسخ: ابتدا تعداد نیم‌عمرها (n) را محاسبه می‌کنیم:

روش اول: $m = m_0 \left(\frac{1}{2}\right)^n \rightarrow m = 1 \cdot \left(\frac{1}{2}\right)^3 \rightarrow m = 1/25 \text{ g}$ (گزینه ۲)

روش دوم: $10 \text{ g} \xrightarrow{\text{نیم عمر ۱}} 5 \text{ g} \xrightarrow{\text{نیم عمر ۲}} 2/5 \text{ g} \xrightarrow{\text{نیم عمر ۳}} 1/25 \text{ g}$ (گزینه ۲)

۱۰. نیم عمر ایزوتوپ تکنسیم برابر ۶ ساعت است. اگر پس از گذشت یک شبانه روز، ۴۵ گرم از هسته‌های ایزوتوپ تکنسیم متلاشی شده باشد، مقدار اولیه تکنسیم چند گرم بوده است؟

پاسخ: ابتدا تعداد نیم عمرها (n) را محاسبه می‌کنیم:

$$n = \frac{\Delta t}{T} = \frac{24 \text{ ساعت}}{6 \text{ ساعت}} = 4$$

روش اول: جرم تکنسیم باقی‌مانده را x گرم در نظر می‌گیریم.

$$m = m_0 \left(\frac{1}{2}\right)^n \rightarrow x = (45 + x) \left(\frac{1}{2}\right)^4 \rightarrow x = 3$$

گزینه ۳ مقدار اولیه تکنسیم $= 45 + 3 = 48 \text{ g}$

روش دوم:

$$m_0 - \frac{m_0}{16} = 45 \rightarrow m_0 = 48 \text{ g}$$
 (گزینه ۳)

ایزوتوپ‌های هیدروژن

۱. هیدروژن دارای هفت ایزوتوپ می‌باشد. در جدول زیر برخی ویژگی‌های آن‌ها مورد بررسی قرار گرفته است.

نماد ایزوتوپ ویژگی ایزوتوپ	^1_1H	^2_1H	^3_1H	^4_1H	^5_1H	^6_1H	^7_1H
نیم عمر	پایدار	پایدار	۱۲/۳۲ سال	$1/4 \times 10^{-22}$ ثانیه	$9/1 \times 10^{-22}$ ثانیه	$2/9 \times 10^{-22}$ ثانیه	$2/3 \times 10^{-23}$ ثانیه
درصد فراوانی در طبیعت	۹۹/۹۸۸۵	۰/۰۱۱۴	ناچیز	۰ (ساختگی)	۰ (ساختگی)	۰ (ساختگی)	۰ (ساختگی)

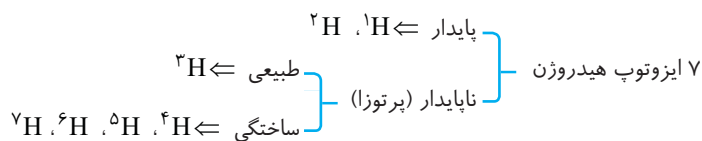
۲. **توجه** ایزوتوپ‌های ^1H و ^2H پایدارند و نیم عمر ندارند.

۳. در یک نمونه طبیعی از عنصر هیدروژن، ۳ ایزوتوپ ^1H ، ^2H و ^3H وجود دارد.

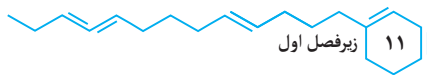
۴. به ایزوتوپ‌های پرتوزا و ناپایدار، رادیو ایزوتوپ می‌گویند. هر چه نیم عمر یک رادیوایزوتوپ طولانی‌تر باشد، هسته آن پایدارتر است. مقایسه پایداری و نیم عمر رادیوایزوتوپ‌های هیدروژن به صورت زیر است:

$$^7\text{H} > ^4\text{H} > ^6\text{H} > ^5\text{H} > ^3\text{H} \text{ : مقایسه نیم عمر و پایداری}$$

۵. در میان ۷ ایزوتوپ هیدروژن، ۵ ایزوتوپ ناپایدار (رادیوایزوتوپ) وجود دارد که ۴ عدد از آن‌ها ساختگی و ۱ عدد از آن‌ها در نمونه‌های طبیعی یافت می‌شود.



۶. ایزوتوپ‌های ^1H ، ^2H ، ^5H و ^6H همگی ساختگی هستند و درصد فراوانی آن‌ها در طبیعت برابر صفر است.



۶ مقایسه درصد فراوانی و پایداری ۳ ایزوتوپ طبیعی هیدروژن (^3H , ^2H , ^1H) به صورت زیر است:

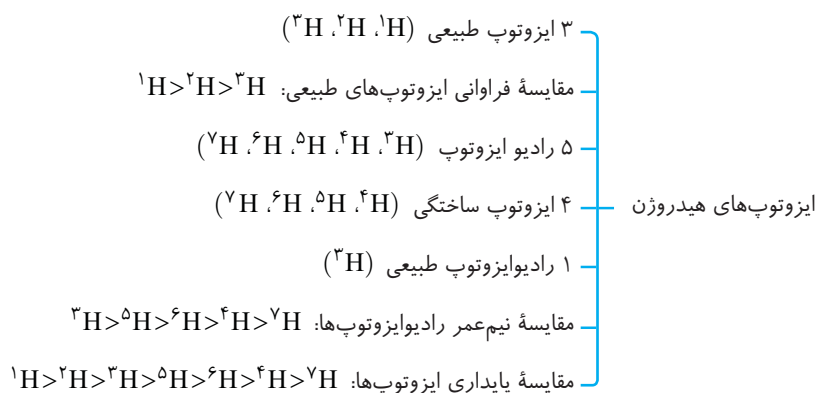
مقایسه پایداری: $^1\text{H} > ^2\text{H} > ^3\text{H}$ (ناچیز) $^3\text{H} > ^2\text{H} > ^1\text{H}$ (۰/۰۱۱۴٪) $^2\text{H} > ^1\text{H}$ (۹۹/۹۸۸۵٪): مقایسه درصد فراوانی

۷ تنها ایزوتوپ پرتوزا و طبیعی هیدروژن، ^3H می باشد.

نکته

با توجه به نیم عمر و درصد فراوانی ایزوتوپ های هیدروژن، می توان پایداری هسته ایزوتوپ های هیدروژن را به صورت مقابل با یکدیگر مقایسه نمود:

۸ در نمودار زیر، نکات مربوط به ایزوتوپ های عنصر هیدروژن، یکجا آورده شده است.



کاربرد رادیوایزوتوپ ها

از ۱۱۸ عنصر شناخته شده، تنها ۹۲ عنصر در طبیعت یافت می شود و ۲۶ عنصر دیگر ساختگی هستند.

۹۲ عنصر طبیعی (حدود ۷۸٪) } ۱۱۸ عنصر شناخته شده
 ۲۶ عنصر ساختگی (حدود ۲۲٪)

تکنسیم

- ۱ تکنسیم (^{99}Tc) نخستین عنصری بود که در واکنشگاه (راکتور) هسته ای ساخته شد.
- ۲ نماد شیمیایی این عنصر به صورت ^{99}Tc می باشد و این عنصر در دوره پنجم و گروه هفتم جدول دوره ای قرار دارد.
- ۳ این رادیوایزوتوپ در تصویربرداری پزشکی کاربرد ویژه ای دارد. از تکنسیم (^{99}Tc) برای تصویربرداری غده تیروئید استفاده می شود.
- ۴ زیرا یون یدید (I^-) با یونی که حاوی ^{99}Tc است، اندازه مشابهی دارد و غده تیروئید هنگام جذب یدید، این یون را جذب می کند و به این ترتیب با افزایش مقدار این یون در غده تیروئید، امکان تصویربرداری فراهم می شود.
- ۵ تیروئید غده ای پروانه ای شکل است که در قسمت جلوی گلو قرار گرفته است.
- ۵ همه ^{99}Tc موجود در جهان به طور مصنوعی و با استفاده از واکنش های هسته ای ساخته می شود.
- ۶ نیم عمر ^{99}Tc کوتاه است و نمی توان مقادیر زیادی از این عنصر را تهیه و برای مدت طولانی نگهداری کرد. از این رو بسته به نیاز، آن را با یک مولد هسته ای تولید و سپس مصرف می کنند.
- ۷ اگر چه در تکنسیم (^{99}Tc) نسبت شمار نوترون ها به پروتون ها کوچک تر از ۱/۵ است ولی این اتم پرتوزا بوده و با گذشت زمان متلاشی می شود.

اشتباه نکنید هر ۱۱۸ عنصر شناخته شده را می توان در واکنشگاه های هسته ای تولید کرد ولی تهیه بسیاری از آن ها به علت هزینه بالا و یا وجود مقادیر زیاد آن ها در منابع طبیعی از نظر اقتصادی به صرفه نیست. برای نمونه با پیشرفت علم شیمی و فیزیک **کیمیایگری** (تبدیل عنصرهای دیگر به طلا) امکان پذیر شده است اما هزینه تولید طلا به این روش به اندازه ای زیاد است که صرفه اقتصادی ندارد.

اورانیم

- ۱ اورانیم شناخته شده ترین فلز پرتوزا است و به طور عمده از رادیوایزوتوپ های ^{238}U و ^{235}U تشکیل شده است.
- ۲ از اورانیم - ۲۳۵ (^{235}U)، اغلب به عنوان سوخت در راکتورهای اتمی استفاده می شود.
- ۳ درصد فراوانی ایزوتوپ ^{235}U در مخلوط طبیعی آن کمتر از ۰/۷ درصد است. از این رو پیش از استفاده از آن لازم است فراوانی آن را به کمک فرایند غنی سازی ایزوتوپی افزایش داد.
- ۴ غنی سازی ایزوتوپی؛ یکی از مراحل مهم چرخه تولید سوخت هسته ای است که طی آن مقدار یا فراوانی یک ایزوتوپ را در مخلوطی از ایزوتوپ های آن عنصر افزایش می دهد.
- ۵ همان طور که به یاد دارید، ایزوتوپ های یک عنصر خواص شیمیایی یکسان و خواص فیزیکی وابسته به جرم متفاوتی دارند؛ از این رو در فرایند غنی سازی ایزوتوپی، ایزوتوپ ها را براساس خواص وابسته به جرمشان از یکدیگر جدا می کنند.
- ۶ رادیوایزوتوپ های تکنسیم و فسفر برخی از رادیوایزوتوپ های تولید شده در ایران هستند.

گلوکز

- ۱ گلوکز یکی از قندهای مورد نیاز برای سوخت و ساز سلول های بدن است و فرمول شیمیایی آن به صورت $\text{C}_6\text{H}_{12}\text{O}_6$ می باشد.
- ۲ با جایگزین کردن یک اتم پرتوزا با یکی از اتم های موجود در مولکول گلوکز، گلوکز نشان دار به دست می آید. (به گلوکز حاوی اتم پرتوزا، گلوکز نشان دار می گویند.)
- ۳ به کمک گلوکز نشان دار می توان توده های سرطانی را شناسایی نمود. توده های سرطانی، یاخته هایی هستند که رشد غیرعادی و سریع دارند.
- ۴ مراحل تشخیص سرطان به کمک گلوکز نشان دار، در زیر توضیح داده شده است.

شکل	نکات
	<p>مرحله اول: تزریق گلوکز نشان دار به بدن.</p> <p>مرحله دوم: ورود گلوکز نشان دار به همراه گلوکز معمولی به اندام های بدن.</p> <p>مرحله سوم: تجمع گلوکز معمولی و نشان دار در توده های سرطانی.</p> <p>چون توده های سرطانی رشد سریع تری دارند و به گلوکز بیشتری نیاز دارند.</p> <p>مرحله چهارم: پرتوایی گلوکزهای نشان دار و تشخیص به کمک آشکارساز.</p>

- ۵ اگر از اندامی در فرد مشکوک به سرطان نسبت به همان اندام در فرد سالم، پرتوهای بیشتری به آشکارساز برسد، آن اندام رشد غیرعادی و سریع تری دارد و به احتمال زیاد حاوی توده های سرطانی است.
- ۶ پسماندهای راکتورهای اتمی خاصیت پرتوایی دارند و خطرناک هستند؛ از این رو دفع آن ها یکی از چالش های صنایع هسته ای به شمار می رود.

طبقه‌بندی عناصرها

طبقه‌بندی کردن یکی از مهارت‌های پایه‌ای در یادگیری مفاهیم علمی است که بررسی و تحلیل را آسان‌تر می‌کند. اگر ۱۱۸ عنصر شناخته شده را بر حسب افزایش عدد اتمی در ردیف‌هایی کنار یکدیگر قرار دهیم و آن‌هایی که خواص شیمیایی نسبتاً مشابه دارند را در یک ستون (گروه) زیر یکدیگر قرار دهیم، جدولی به صورت زیر به دست می‌آید.

به کمک این جدول می‌توان اطلاعات ارزشمندی از ویژگی‌های عناصرها به دست آورد و براساس آن، رفتار عناصرهای گوناگون را پیش‌بینی نمود.

۲ جدول دوره‌ای دارای ۷ دوره و ۱۸ گروه است.

دوره (تناوب): هر ردیف افقی جدول دوره‌ای که نشان‌دهندهٔ چیدمان عناصرها بر حسب افزایش عدد اتمی است.

گروه (خانواده): هر ستون عمودی جدول دوره‌ای که شامل عناصرهایی با خواص شیمیایی نسبتاً مشابه است.

۳ در جدول دوره‌ای، هر عنصر با نماد یک یا دو حرفی نشان داده شده است. در هر نماد، حرف اول نام لاتین عنصر به صورت بزرگ نوشته می‌شود، برای نمونه نماد سه عنصر آلومینیم، آرگون و طلا به ترتیب Ar، Al، Au است که همگی با A شروع می‌شوند.

۴ با پیمایش هر دوره از چپ به راست خواص عناصرها به طور مشابه تکرار می‌شود، از این رو چنین جدولی را جدول دوره‌ای (تناوبی) عناصرها نامیده‌اند.

۵ هر خانه از جدول دوره‌ای به یک عنصر و ایزوتوپ‌هایش تعلق دارد و حاوی اطلاعات شیمیایی آن عنصر است.

عدد اتمی	۷
نماد شیمیایی	N
نام	نیتروژن
جرم اتمی میانگین	۱۴/۰۱

۶ شمارهٔ خانهٔ هر عنصر نشان‌دهندهٔ عدد اتمی، شمار پروتون‌ها و الکترون‌های موجود در اتم آن عنصر است.

۷ موقعیت یا مکان هر عنصر در جدول دوره‌ای، شمارهٔ گروه و دورهٔ آن را نشان می‌دهد. برای نمونه عنصر نیتروژن با عدد اتمی ۷، در دورهٔ دوم و گروه ۱۵ جدول دوره‌ای قرار دارد.

۸ برای تعیین تعداد عناصرهای موجود میان دو عنصر از رابطهٔ زیر استفاده می‌کنیم:

$$1 - (\text{اختلاف عدد اتمی دو عنصر}) = \text{تعداد عنصر موجود میان دو عنصر}$$

۸ با توجه به جدول دوره‌ای عناصرها، تعداد عناصر موجود در هر دوره و گروه برابر است با:

شمارهٔ دوره	۱	۲	۳	۴	۵	۶	۷
تعداد عناصرها	۲	۸	۸	۱۸	۱۸	۳۲	۳۲
شمارهٔ گروه	۱	۲ تا ۱۰	۱۱ تا ۱۸	۱۹ تا ۲۰	۲۱ تا ۳۰	۳۱ تا ۳۲	۳۳ تا ۳۶
تعداد عناصرها	۷	۶	۳۲	۶	۶	۶	۶

آزمون زیر فصل اول

عبارت‌های درست / نادرست

- درستی یا نادرستی هر یک از عبارت‌های زیر را تعیین کنید:
- از اطلاعات ارسال شده توسط وویجر ۱ و ۲ می‌توان برای مقایسه ترکیب درصد و نوع عنصرهای سازنده زمین با برخی سیاره‌ها استفاده نمود. (.....)
 - هیدروژن و آهن به ترتیب فراوان‌ترین عنصر موجود در سیاره زمین و مشتری هستند. (.....)
 - برخلاف دمای ستاره، اندازه آن نقش تعیین‌کننده‌ای در نوع عنصرهای ساخته‌شده در آن ندارد. (.....)
 - انرژی تولید شده در واکنش‌های هسته‌ای، با جرم ماده تبدیل شده به انرژی رابطه مستقیم دارد. (.....)
 - از تکنسیم برای تصویربرداری از غده تیروئید استفاده می‌شود؛ زیرا یون یدید با یونی که حاوی ^{99}Tc است، اندازه مشابهی دارد. (.....)
 - پسماندهای راکتورهای اتمی خاصیت پرتوایی نداشته و دفع آن‌ها به سادگی انجام می‌شود. (.....)
 - اورانیم شناخته شده‌ترین فلز پرتوایی است که فراوانی یکی از ایزوتوپ‌های آن که اغلب به عنوان سوخت در راکتورهای اتمی استفاده می‌شود، کم‌تر از $7/10$ درصد است. (.....)
 - جدول دوره‌ای دارای ۸ دوره و ۱۸ گروه است و هر خانه از جدول به یک عنصر تعلق دارد. (.....)
 - همه هسته‌هایی که نسبت شمار نوترون‌ها به پروتون‌های آن‌ها برابر یا بیشتر از $1/5$ باشد، ناپایدار می‌باشند. (.....)
 - اگر اتم فلئور (^9F) در ترکیب با فلزها به یون فلئورید (F^-) تبدیل شود، اتم برم با عدد اتمی ۳۵ می‌تواند آنیونی با بار الکتریکی همانند یون فلئورید تشکیل دهد. (.....)

سوالات چهارگزینه‌ای

- در مورد ۸ عنصر فراوان موجود در سیاره زمین و مشتری، کدام گزینه نادرست است؟
 - آهن، اکسیژن و سیلیسیم سه عنصر فراوان سیاره زمین است.
 - درصد فراوانی اکسیژن و گوگرد در سیاره مشتری کمتر از سیاره زمین است.
 - در سیاره مشتری برخلاف سیاره زمین، عنصر فلزی وجود ندارد.
 - مقایسه درصد فراوانی سه گاز نجیب هلیوم، نئون و آرگون در سیاره مشتری به صورت $\text{Ar} < \text{Ne} < \text{He}$ می‌باشد.

کدام عبارت‌های زیر درست هستند؟

الف) ایزوتوپ‌های یک عنصر دارای عدد اتمی یکسان اما عدد جرمی متفاوت هستند.

ب) مقایسه درصد فراوانی سه ایزوتوپ منیزیم در یک نمونه طبیعی به صورت $^{24}\text{Mg} < ^{25}\text{Mg} < ^{26}\text{Mg}$ است.

پ) مرگ ستاره‌ها با انجام واکنش‌های هسته‌ای همراه است که سبب می‌شود عنصرهای موجود در آن به انرژی تبدیل شوند.

ت) همه ^{99}Tc موجود در جهان به‌طور مصنوعی و با استفاده از واکنش‌های شیمیایی ساخته می‌شود.

۱) الف) (ب) و (پ) ۲) (ب) و (پ) ۳) الف) و (ت) ۴) (ب)، (پ) و (ت)
- چه تعداد از عبارت‌های زیر درست‌اند؟

الف) به کمک فرایند غنی‌سازی ایزوتوپی می‌توان درصد فراوانی ^{235}U را در مخلوط ایزوتوپ‌های آن افزایش داد.

ب) از تبدیل $1/10$ گرم ماده به انرژی، 9×10^{11} ژول انرژی آزاد می‌شود.

پ) شمار عنصرهای موجود در دوره چهارم جدول تناوبی، $2/25$ برابر عناصر موجود در دوره دوم است.

ت) با پیشرفت علم شیمی و فیزیک، تبدیل عنصرهای دیگر به طلا امکان‌پذیر شده ولی تولید آن صرفه اقتصادی ندارد.

ث) مقایسه نیم‌عمر رادیوایزوتوپ‌های هیدروژن به صورت $^3\text{H} > ^4\text{H} > ^5\text{H} > ^6\text{H} > ^7\text{H}$ می‌باشد.

۱) ۵ ۲) ۴ ۳) ۳ ۴) ۲

پاسخ تشریحی آزمون زیرفصل اول

عبارت‌های درست / نادرست

۱۰	۹	۸	۷	۶	۵	۴	۳	۲	۱	عبارت
✓	✗	✗	✓	✗	✓	✓	✗	✗	✓	درستی / نادرستی

سؤالات چهارگزینه‌ای

۱. گزینه ۴: مقایسه درصد فراوانی سه گاز نجیب هلیم، نئون و آرگون در سیاره مشتری به صورت $Ne < Ar < He$ است.

۲. گزینه ۱: فقط عبارت (الف) درست است. بررسی عبارت‌های نادرست:

عبارت (ب): مقایسه درصد فراوانی سه ایزوتوپ منیزیم در یک نمونه طبیعی به صورت $^{24}Mg < ^{26}Mg < ^{25}Mg$ است. عبارت (پ): مرگ ستاره‌ها با یک انفجار بزرگ همراه است که سبب می‌شود عنصرهای تشکیل‌دهنده آن در فضا پراکنده شوند.

عبارت (ت): همه ^{99}Tc موجود در جهان به‌طور مصنوعی و با استفاده از واکنش‌های هسته‌ای ساخته می‌شود.

۳. گزینه ۲: عبارت‌های (الف)، (ب)، (پ) و (ت) درست هستند.

عبارت (ب): $m = 0.01g = 0.01 \times 10^{-3} kg \Rightarrow E = 0.01 \times 10^{-3} \times (3 \times 10^8)^2 = 9 \times 10^{11} J$

عبارت (پ): شمار عنصرهای موجود در دوره‌های دوم و چهارم به ترتیب برابر با ۸ و ۱۸ می‌باشد.

$$\frac{\text{شمار عنصرهای دوره ۴}}{\text{شمار عنصرهای دوره ۲}} = \frac{18}{8} = 2.25$$

عبارت (ث): مقایسه صحیح نیم‌عمر رادیوایزوتوپ‌های عنصر هیدروژن: $^3H > ^5H > ^6H > ^2H > ^4H$